

# வலயக் கல்வி அலுவலகம் மன்னார்



தரம் ஐந்து மாணவர்களுக்கு நடாத்தப்படும் மாதிரிப் பரீட்சை - 01  
பகுதி :- 2

நேரம்:- 1மணித்தியாலம்15நிமிடம்

சுட்டெண் :-.....

**பரீட்சைக்குத் தோற்றும் உமக்குரிய அறிவுறுத்தல்கள் :**

- உமது சுட்டெண்ணை மேற்குறித்த அடைப்பினுள்ளே இருக்கும் புள்ளிக்கோட்டின் மீது எழுதுக.
- மூன்றாம் பக்கத்தில் உள்ள குறித்த இடத்திலும் உமது சுட்டெண்ணை எழுதுக.
- இவ்வினாத்தாளில் 60 வினாக்கள் உள்ளன. சில வினாக்களில் உப பகுதிகளும் உள்ளன.
- எல்லா வினாக்களுக்கும் உரிய விடைகளை இவ் வினாத்தாளிலேயே எழுதுக.
- விடைகள் எழுதப்படவேண்டிய வினாக்களின் விடைகளைப் புள்ளிக்கோட்டின் மீது எழுதுக.
- விடையின் கீழே கோடிமுறா கேட்கப்பட்டிருக்கும்போது சரியான விடையைத் தெரிவு செய்து, அதன் கீழே கோடிடுக.
- செய்கை வேலைக்காக ஒரு தாள் வழங்கப்படும்.

**விடைத்தாள் பரீட்சகர்களுக்கு மாத்திரம்**

பக்க இலக்கம்	பெற்ற சரியான புள்ளிகளின் எண்ணிக்கை		பெயரும் ஒப்பும்
02		முதலாவது பரீட்சகர் (வகுப்பாசிரியர்) புள்ளி வழங்கும் திட்டத்திற்கேற்ப விடைத்தாள் மதிப்பிடப்பட்டுள்ளது என உறுதிப்படுத்துகிறேன்.	பெயர் ஒப்பம்
03			
04		இரண்டாவது பரீட்சகர் (.....) முதலாவது பரீட்சகரின் மதிப்பீடு சரியென உறுதிப்படுத்துகிறேன்.	பெயர்
05			
06			
07		மதிப்பீட்டுப் புள்ளிகளை உறுதிப்படுத்தும் பரீட்சகர் மதிப்பீட்டு வழங்கிய புள்ளிகளும் இறுதிப் புள்ளிகளும் சரியென உறுதிப்படுத்துகிறேன்.	பெயர் ஒப்பம்
08			
<b>இறுதிப் புள்ளிகள்</b>			
இலக்கத்தில்		அதிபர் மேற்பார்வை செய்தேன்	
எழுத்தில்		வலய / மாகாண மேற்பார்வையாளர்	

**1.பின்வரும் பந்தியை நன்றாக வாசிக்குக.**

மரங்கள் அடர்ந்த ஒரு காடு இருந்தது. அந்தக் காட்டின் இடையே ஓர் ஆறு ஓடிக் கொண்டிருந்தது. அந்த ஆற்றங்கரையில் ஒரு பெரிய அரச மரம் இருந்தது.

ஆற்றங்கரையில் இருந்த அரச மரத்திற்கோ ஆண்டு முழுவதும் தண்ணீருக்குக் குறைவில்லை. வண்டல் கலந்து வந்த நீர் அரசமரத்திற்கு வலிவையும் பொலிவையும் கொடுத்தது. அரச மரம் அகன்று பெருத்து வானுறவோங்கித் தலை நிமிர்ந்து பூரிப்பாக நின்றது.

**கேட்கப்பட்டுள்ள வினாக்களுக்குரிய விடைகளைப் பந்தியிலிருந்து தெரிந்தெடுத்துப் புள்ளிக் கோட்டின் மீது எழுதுக.**

1.காட்டின் இடையே ஓடிக் கொண்டிருந்தது எது?

2.அரசமரத்திற்கு வலிவையும் பொலிவையும் கொடுத்தது எது?

3.வருடம் என்பதன் ஒத்த சொல் யாது?

4.பந்தியில் வந்த சீனைப்பெயர் யாது?

5.பந்தியில் வந்த அ.ஃறிணை பன்மைச் சொல் யாது?

6.தண்ணீர் என்பதை பிரித்தெழுதுக?

(6புள்ளிகள்)

**2.பொருத்தமான சொல்லை அடைப்புக்குள் இருந்து தெரிவு செய்து எழுதுக.**

1.பாம்பைக் கண்ட சிறுவர்கள் .....(அலறீ , அலரி)க் கொண்டு ஓடினர்.

2.அவள் கொண்டு வந்த பொருள் ..... (கனமாக, கணமாக) இருந்தது.

(2புள்ளிகள் )

**3.சரியாயின் (சரி) எனவும் பிழையாயின் (பிழை) எனவும் அடைப்பினுள் எழுதுக.**

1.ஆசிரியர்கள் உயர்திணை பன்மைப் பெயர்ச்சொல்லாகும். ( )

2. நீதிபதி என்பது இருபால் பொதுப்பெயர் ஆகும். ( )

3. கடிகாரம் அ.ஃறிணை பன்மைப் பெயர்ச்சொல்லாகும். ( )

(3புள்ளிகள்)

**4.முதலில் தரப்பட்டுள்ள சொல்லுடன் பொருந்துகின்ற சொல்லை தெரிவு செய்க.**

1.அரவம் :- ( பாம்பு , சாந்தம் , சனம் )

2.கல்வி :- ( மலை , வீத்தை , செல்வம் )

(2புள்ளிகள்)




12. வெற்றிடத்திற்குப் பொருத்தமான ஆங்கிலச் சொல்லைத் தெரிவு செய்க.

3. Watering the ..... (plants , radio , book)

4. Washing the ..... (television , clothes , clock)

13. பின்வரும் படங்களின் கருத்தை சிங்களத்தில் கூறப்படும் விதத்தை தமிழில் எழுதுக.

5.



6.



14. பின்வரும் வாக்கியங்களின் கருத்தை தமிழில் எழுதுக.

7. வேகயன் துவன்ன :-.....

8. செல்லம் கறன்ன யமுத? :-.....

(8x1=8புள்ளிகள்)

15. நான் ஒரு மருத்துவரானால் ..... எனும் தலைப்பில் மூன்று வாக்கியம் எழுதுக.

(ஒவ்வொரு வாக்கியத்திலும் ஐந்து சொற்களுக்கு மேல் இடம்பெறுதல் வேண்டும். எழுவாய், பயனிலை தொடர்புகளும் சரியானதாக இருத்தல் வேண்டும்.)

1.....

2.....

3.....

(6புள்ளிகள்)

16. சரியான விடையை புள்ளிக்கோட்டின் மீது எழுதுக.

01. அருகில் உள்ள இலக்கங்கள் நான்கையும் பயன்படுத்தி ஆக்கக்கூடிய மிகச்சிறிய எண் யாது?

9	7
0	5

.....

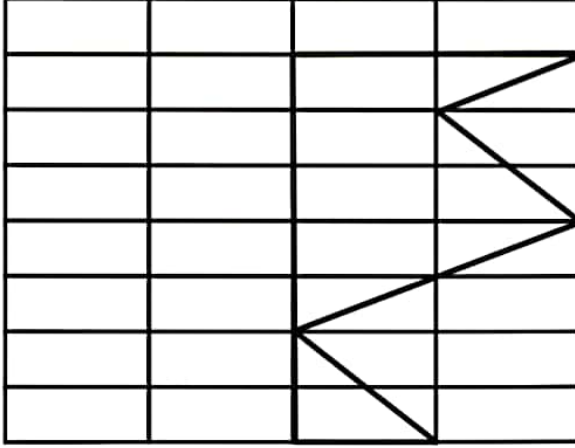
02. .... ix ..... தரப்பட்டுள்ள உரோம எண்ணிற்கு முந்திய, பிந்திய எண்களை உரோம எண்ணில் தருக?

.....


03. நாறினிடம் 9, பத்தாயிரத்தினிடம் 4, ஒன்றினிடம் 2, பத்தினிடம் 4, ஆயிரத்தினிடம் 0 ஆகவுள்ள எண்ணை எழுதுக?

.....

04. கீழுள்ள உருவை சமச்சீர் உடைய உருவாக முழுமையாக வரைக?



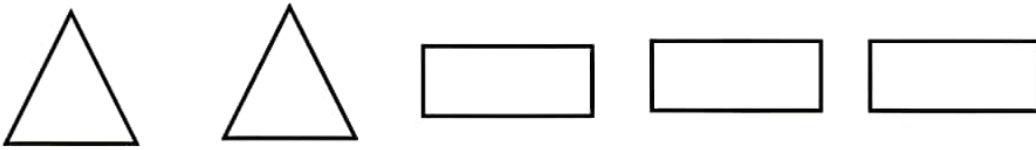
05. உருவில் நிழற்றப்படாத பகுதியைத் தசமமாக எழுதுக?



06. ஒரு பீப்பாவில் 25l 750ml மண்ணெண்ணையும் மற்றைய பீப்பாவில் 48l 650ml மண்ணெண்ணையும் இருந்தது. இரு பீப்பாய்களிலும் உள்ள மண்ணெண்ணையின் அளவு யாது?

.....l .....ml

07.



மேலே உள்ள தளவடிவங்கள் அனைத்தையும் பயன்படுத்தி

1. உருவாக்கக்கூடிய திண்மத்தின் உச்சிகள் எத்தனை?

.....

2. திண்மத்தின் விளிம்புகள் எத்தனை?

.....

08. அனு ஒரு பந்தை 7m 75cm தூரத்திற்கு எறிந்தான். வினு பந்தை 15m 45cm தூரத்திற்கு எறிந்தான். வினுவிலும் பார்க்க அனு எவ்வளவு தூரம் குறைவாக பந்தை எறிந்தான்?

.....

09. அருகில் உள்ள கடிகாரம் காட்டுவது பிற்பகல் நேரமாகும். அதனை நியம நேரத்தில் தருக?



10. ஒருவர் பத்து ரூபாய் பெறுமதியான மூன்று பென்சில்களும் 28 ரூபாய் பெறுமதியான 2 நிறப் பெட்டிகளையும் வாங்கி கடைக்காரனிடம் நீல நிற காசத்தாள்கள் இரண்டைக் கொடுத்தார். எனின் அவருக்குக் கிடைக்கும் மீதிப்பணம் எவ்வளவு?

11. வியாபாரி ஒருவர் தராசு ஒன்றில் ஒரு தட்டில் 3Kg 500g சீனியையும் 3 சமனான படிக்கற்களையும் வைத்தார். மறுதட்டில் படிக்கற்களையும் வைத்தார். தராசு சமனாக நின்றது. எனின் வியாபாரி சீனியுடன் வைத்த படி ஒன்றின் நிறை யாது?

12. அபி நாளொன்றில் 25 கழுத்துப்பட்டிகளைத் தைப்பாள். எனின் அவள் ஒரு வாரத்தில் தைக்கக் கூடிய கழுத்துப் பட்டிகளின் எண்ணிக்கை யாது?

13. அட்டவணையை நிரப்புக.

பொருள்	1 kg இன் விலை	வாங்கிய அளவு	விலை
சீனி	120.00	2 kg	.....
அரிசி	90.00	.....	270.00
மா	87.00	3kg	.....
பருப்பு	68.00	.....	136.00
மொத்தம்			907.00

14. கட்டத்தில் உள்ள எண்களில் 6 இனால் மீதியின்றி வகுபடக் கூடிய எண்கள் எவை?

30	38	24	
49	42	36	54
25	12	15	


15. கீழுள்ள தரவுகளை அவதானித்து விடை தருக.

தமிழ்	கணிதம்	சுற்றாடல்	ஆங்கிலம்	சமயம்
84	73	92	73	80

ஐந்து பாடங்களில் தரம் 5 மாணவர்கள் பெற்ற புள்ளிகள் மேலே காட்டப்பட்டுள்ளன.

1. மாணவன் கூடுதலான புள்ளிகள் பெற்ற பாடம் எது?

.....

2. இப்பரீட்சையில் மாணவன் பெறும் சராசரிப் புள்ளி யாது?

.....

(30புள்ளிகள்)

17. மிகச்சரியான விடையின் கீழ் கோடிடுக.

1. சூரிய நமஸ்காரச் செயற்பாட்டை மேற்கொள்வதற்குப் பொருத்தமான நேரம் யாது?

1. காலைவேளை

2. மதியவேளை

3. இரவுவேளை

2. மாணவன் ஒருவன் சிறுநீர்கழித்த பின் தனது சிறுநீர் கடும் மஞ்சள் நிறத்தில் இருப்பதாகக் கூறினான். எனவே அவன்

1. தண்ணீர் குடிப்பது போதுமானது.

2. தண்ணீர் குடிப்பது அவசியமானது

3. தண்ணீர் குடிப்பது அத்தியாவசியமானது

3. ஒளடதங்களை பயன்படுத்தும் போது கவனத்தில் கொள்ள வேண்டிய விடயம் அல்லாதது

1. மருந்து உட்கொள்ளவேண்டிய தடவை

2. ஊட்டும் அளவு

3. ஆகக் கூடிய விற்பனை விலை

4. ஆங்கிலேயர் இலுப்பை மரங்களை எரித்து அழித்தமைக்கான காரணமாக அமைவது

1. சூழலுக்குப் பாதிப்பை ஏற்படுத்தும் தாவர வகை என்பதால்

2. மண்ணின் செழுமையை இல்லாது அழிப்பதற்காக

3. நீர் தட்டுப்பாட்டைப் போக்குவதற்காக

5. தேசியக் கொடியில் அருகருகே அடையாளப்படுத்தப்படும் இரு இனங்களும் எவை?

1. சிங்களவர், முஸ்லீம்

2. முஸ்லீம், தமிழர்

3. தமிழர், சிங்களவர்

6. ஆசிரியர் சொல்வதைப் பின்பற்றி செயலாற்றும் மாணவர்கள் எப் பிராணிக்கு ஒப்பானவர்கள்?

1. மயிர்கொட்டி

2. மீன்கொத்தி

3. வண்ணத்துப்பூச்சி

7.பொதுப்போக்குவரத்து சாதனங்களில் பயணிக்கும் போது சக பயணி ஒருவருக்கு அசௌகரியம் ஏற்படுத்தும் செயற்பாடு அல்லாதது?

- 1.பேருந்தில் உரத்த சத்தத்துடன் பாடல்கள் ஒலிக்க விடல்.
- 2.பயணி ஒருவர் உரத்த குரலில் தொலைபேசியில் உரையாடுதல்
- 3.பயணி ஒருவர் அமைதியாக உறங்குதல்.


8.தேசிய மரபுரிமைகளுக்கு சேதம் விளைவித்தல் அல்லது துஷ்பிரயோகம் செய்தலில் ஈடுபட்ட ஒருவருக்கு வழங்கப்படுவது

- 1.நற்சான்றிதழ்
- 2.அரசகௌரவம்
- 3.சிறைத்தண்டனை

9.தேசிய அடையாள அட்டையொன்றைப் பெறுவதற்கான விண்ணப்பப்படிவத்தை பூர்த்தி செய்வதற்குச் செல்ல வேண்டியது.

- 1.குடும்ப சுகாதார சேவை அதிகாரியிடம்
- 2.கிராம அலுவலரிடம்
- 3.சமுர்த்தி அதிகாரியிடம்

10.



இச்சுதேச ஆக்கம் செய்வதற்குப் பயன்பட்ட பொருட்கள்

- 1.குருத்தோலை, வாழை நடுத்தண்டு
- 2.பிரப்பங்கொடி , அரக்கு
- 3.குருத்தோலை , பன்புல்

11.வறண்ட பிரதேசங்களில் பரந்து காணப்படுபவை

- 1.நாகதாளி,கற்றாளை
- 2.கங்குன்,வெற்றிலை
- 3.சாத்தாவாரி,கங்குன்

12.கூழலில் ஏற்படும் மாற்றத்தை தமது செயற்பாடுகள் மூலம் வெளிக்காட்டுபவை

- 1.வெளவால்,கோழி
- 2.தேனீ,வண்ணத்துப்பூச்சி
- 3.சேவல்,ஈசல்

13.இலங்கைக்கு உரிய மீன்மும் நகருயிரும் முறையே

- 1.புலத்தூய்யா,மள்புளுட்டா
- 2.மள்புளுட்டா,நீர்ப்பாம்பு
- 3.நீர்ப்பாம்பு,புலத்தூய்யா

14.பிராணிகளின் இருப்புக்குத் தீங்கு விளைவிக்கும் மனித செயற்பாடாக அமையாதது

- 1.தேனப்பசளைகளைப் பயன்படுத்தல்
- 2.வாழ்விடங்களை அழித்தல்
- 3.கொதி நீரை நிலத்தில் கொட்டுதல்



15.பாடசாலையிலுள்ள உபகரணங்கள் மற்றும் பண்டங்கள் தொடர்பான பதிவேடு

1.பொருட்பதிவேடு

2.சம்பவப்பதிவேடு


3.வரவுப்பதிவேடு

16.விவசாய நிலங்களில் கிருமிநாசினிகள் ,இரசாயன வளமாக்கிகளின் பயன்பாடுகள் காரணமாக ஏற்படக் கூடிய நோய்

1.நீரிழிவு

2.புற்றுநோய்

3.உயர்குருதியழுக்கம்

17.  இவ் உபகரணம் பயன்படுத்தப்படும் வேலைத்தளம்

1.கட்டிட வேலை நடைபெறும் இடம்

2.கம்மாலை

3.தச்சுலை நடைபெறும் இடம்

18.மணலில் புதைத்து வைத்து நற்காப்புச் செய்யக் கூடிய பொருட்கள் எவை?

1.இஞ்சி, எலுமிச்சை, பலாக்கொட்டை

2.எலுமிச்சை , இறைச்சி , பலாப்பழச்சுளை

3.இஞ்சி , பனங்கிழங்கு , மிளகாய்

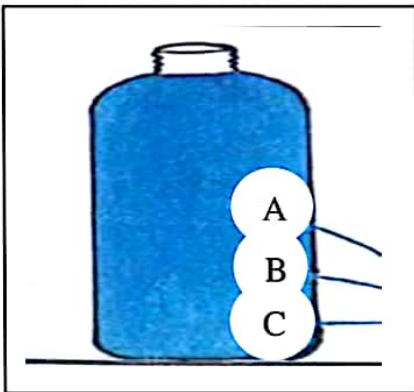
19.தூரநோக்கமற்ற மனிதனின் செயற்பாடுகளினால் அனர்த்தம் நிகழக் கூடிய சந்தர்ப்பம்

1.மின்னல் தாக்கம் காரணமாக பயிர்ச்செய்கை அழிவடைதல்.

2.கூறாவளிக் காற்று வீசும் போது வீடுகள் உடைந்து வீழுதல்

3.மலைப்பகுதிகளில் உள்ள மண்ணை வெட்டுவதால் மண்சரிவு ஏற்படுதல்.

20.சம அளவான துவாரங்கள் இடப்பட்ட இப் பாத்திரத்தில்ருந்து வெளிப்படும் நீர் கூடிய அளவு தூரத்திற்கு வெளியேறும் துவாரம் எது?



1.துவாரம் A

2.துவாரம் B

3.துவாரம் C

21.பனிக்கட்டி விரைவாக உருகுவது

1.வெந்நீர் உள்ள குவளையில் இடும் போது

2.குளிர்நீர் உள்ள குவளையில் இடும் போது

3.நீர்ற்ற குவளையில் இடும் போது

22.



தரப்பட்டுள்ள திருகாணியைப் பலகையில் இறுக்குவதற்கும் கழற்றுவதற்கும் மிகப்பொருத்தமான உபகரணம்

- 1.பொதுவான திருப்புளி
- 2.மின்சோதிப்பான்
- 3.பூமுனைத்திருப்புளி

23.இலங்கையில் இலவசக்கல்வி வழங்குவதன் பிரதான நோக்கமாக அமைவது?

- 1.சகலருக்கும் கல்வியில் சமவாய்ப்பு வழங்குவதற்காக
- 2.தேசிய பரீட்சைகளை நடாத்துவதற்காக
- 3.ஆசிரியர்களுக்கு சம்பளம் வழங்குவதற்காக

24.இக் குறியீடு காணப்படும் கழிவு சேகரிப்பானில் இடுவதைத் தவிர்க்க வேண்டிய கழிவுப் பொருட்களும் அவற்றின் பகுதிகளுமாக அமைபவை.



- 1.பிளாஸ்டிக் கழிவு
- 2.உணவுக்கழிவுகள்
- 3.மின் இலத்திரனியல் கழிவுகள்

25.இலங்கை தேசிய கீதக் கமிட்டி, தேசியக் கொடி கமிட்டியில் அங்கத்தவராகச் செயற்பட்ட தேசிய வீரர்

- 1.ஆதர் சி.கீளார்க்
- 2.ரி.பி ஐயா
- 3.வண.எஸ் மகிந்ததேரர்

26.தலையணை, பந்தூரிகை, சவர்க்காரம், போர்வை என்பன

- 1.ஒரு தடவை மட்டும் பயன்படுத்தப்படும் பொருட்கள்
- 2.பொதுவாகப் பயன்படுத்தப்படும் பொருட்கள்
- 3.ஒருவர் மட்டும் பயன்படுத்தும் பொருட்கள்

27.ஓப்ப நாயக்கவில் காணப்படும் வரலாற்று முக்கியத்துவம்

- 1.பெருங்கொடி
- 2.புளியமரம்
- 3.பெருக்கமரம்

28.பின்வரும் பிராணிகளில் அதிக வகையான நோய்களை மனிதனிடையே பரப்புவது

- 1.பன்றி
- 2.நாய்
- 3.நுளம்பு

29.மின்னல் தாக்கம் ஏற்படும் வேளையில் மேற்கொள்வதற்குப் பொருத்தமற்ற செயற்பாடு

- 1.மரத்தின் கீழ் நின்று தொலைபேசியில் உரையாடுதல்
- 2.வீட்டின் மரக்கட்டிலில் இருந்து பத்திரிகை வாசித்தல்
- 3.வீட்டினுள் இருந்து உணவருந்துதல்

30.தற்காலத்தில் தகவல்களைப் பரிமாறிக் கொள்ளும் கூட்டமாக அமைவது

- 1.இணையம், தொலைக்காட்சி
- 2.கொடியசைத்தல், தீக்குவியல் மூட்டுதல்
- 3.பிராணிகள் மூலம், ஈட்டி மூலம்

(30புள்ளிகள்)