

வலயக் கல்வி அலுவலகம் மன்னார்

தரம் 5 மாணவர்களுக்கான மாதிரிப் பரீட்சை

வினாப்பத்திரம் - II

சுட்டெண் -

நேரம்- 1.15 மணித்தியாலம்

பரீட்சைக்குத் தோற்றும் உங்களுக்குரிய அறிவுறுத்தல்கள்

- உங்கள் சுட்டெண்ணை அடைப்புக்குள் உள்ள புள்ளிக்கோட்டிலும் 3வது பக்கத்திலுள்ள புள்ளிக் கோட்டிலும் எழுதுக.
- இவ்வினாத்தாளில் 40 வினாக்கள் உள்ளன. எல்லா வினாக்களுக்கும் விடைகளை இத்தாளிலேயே எழுதுக.
- ஒவ்வொரு வினாவிற்கும் மூன்று விடைகள் தரப்பட்டுள்ளது. ஒவ்வொரு வினாவிற்கும் உரிய சரியான விடைகளைத் தெரிவு செய்து அதன் கீழ்க் கோடிடுக.
- செய்கை வேலைக்காக ஒரு தாள் வழங்கப்படும்.

விடைத்தாள் பரீட்சகர்களுக்கு மாத்திரம்

பக்க இலக்கம்	பெற்ற புள்ளிகள்		பெயரும் ஒப்பமும்
02		முதலாவது பரீட்சகர் புள்ளி வழங்கும் திட்டத்திற்கேற்ப விடைத்தாள் மதிக்கப்பட்டுள்ளது என உறுதிப்படுத்துகின்றேன்.	
03			
04			
05			
06			
07		இரண்டாவது பரீட்சகர் முதலாவது பரீட்சகரின் மதிப்பீடு சரியென உறுதிப்படுத்துகின்றேன்.	
08			
09			
மொத்தம்			
இறுதிப் புள்ளிகள்		மதிப்பீட்டுப் புள்ளிகளை உறுதிப்படுத்தும் பரீட்சகர் புள்ளி வழங்கும் திட்டத்திற்கேற்ப விடைத்தாள் மதிப்பிடப்பட்டுள்ளது என உறுதிப்படுத்துகின்றேன்.	
இலக்கத்தில்			
எழுத்தில்			
		பிரதான பரீட்சகர் மேற்பார்வை செய்தேன் இறுதிப் புள்ளிகள் சரியாகும்.	

1) பின்வரும் பந்தியை வாசித்து வினாக்களுக்கு விடையளிக்குக.

இயற்கை எழில் கொஞ்சம் நகரமே கண்டி மாநகரமாகும். இங்கு ஆண்டுக்கு ஒரு தடவை ஆடி மாதத்தில் எசல பெரஹரா நடைபெறும். தகதகவென மின்னும் தங்கக்கூரையை உடைய தலதாமாளிகை வரலாற்றுச் சிறப்புமிக்கதொரு விகாரையாகும். இங்கே புத்தரின் புனிதத்தந்தம் வெகு கௌரவமாக பாதுகாக்கப்பட்டு வருகின்றது.

1. எசல பெரஹரா எந்த மாதத்தில் நடைபெறுகின்றது?
2. பௌத்தர்களின் வழிபாட்டிடம் எது?
3. அழகு என்பதன் ஒத்தகருத்துச் சொல்?
4. பந்தியில் இடம்பெற்றுள்ள காலப்பெயர்ச் சொல் ஒன்று தருக?
5. “மிகவும் மதிப்பாக” என்பதை உணர்த்தும் வகையில் பந்தியில் அமைந்துள்ள சொல் யாது?
.....
6. இரட்டைக் கிழவிச் சொல் ஒன்று தருக.

(1×6 = 6 புள்ளிகள்)

2) கீழே தரப்பட்ட தரவுகளைக் கொண்டு குறுக்கெழுத்துக் கட்டங்களை நிரப்புக.

மேலிருந்து கீழ்

1. தின்னத் தின்னத் தெவிட்டாதது
3. வழக்கில் தண்டனை பெற்றவன்

இடமிருந்து வலம்

2. சிரிப்பு என்பதன் ஒத்த கருத்து

1			
2			3

(1×3 = 3 புள்ளிகள்)

3) பழமொழியைப் பூர்த்தி செய்க.

1. அச்சாணி இல்லாத் தேர்

(1×1 = 1புள்ளிகள்)

4) தரப்பட்ட வாக்கியங்களில் வெற்றிடத்திற்குப் பொருத்தமான சொல்லின் கீழ் கோடிடுக.

1. சிறுவர்கள் கடற்கரையில் (ஊரி , ஊறி) களைப் பொறுக்கி விளையாடினர்.

2. வேடன் எய்த..... (பாணம் , பானம்) பட்டு புறா கீழே விழுந்தது.

(1×2 = 2 புள்ளிகள்)

சுட்டெண் -

5) தனிச்சொல்லை எழுதுக

ஒரு தண்டிலே பல மலர்கள் மலர்ந்துள்ள பூங்கொத்து

6) சுருக்க குறியீட்டினை விரித்து எழுதுக.

இ . ஓ . கூ

(1×2 = 2புள்ளிகள்)

7) தரப்பட்ட மரபுச் சொற்களுக்கு பொருத்தமான விடையின் கீழ் கோடிடுக.

1. கோழி பேடு எனில் மயில் (அளகு , போத்து)

2. இராமனை முதன்முதலில் பார்த்த சீதை தலை கவிழ்ந்தாள். இங்கு தலை கவிழ்தல் என்பது (புன்னகை செய்தல் , வெட்கமடைதல்)

(1×2 = 2புள்ளிகள்)

8) பின்வரும் கூற்றுக்கள் சரியாயின் சரி எனவும் பிழையாயின் பிழை எனவும் அடைப்புக்குள் எழுதுக.

1. நவாலியூர் சோமசுந்தரப் புலவர் தங்கத் தாத்தா என அழைக்கப்பட்டார். ()

2. இருளை ஒளியால் நிரப்பியவர் என்ற பெருமைக்குரியவர் மார்க்கோனி ஆவார். ()

(1×2 = 2புள்ளிகள்)

9) பின்வரும் ஆங்கில வார்த்தைகளை கருத்துள்ள வகையில் ஒழுங்குபடுத்தி எழுதுக.

1. You / sing? / can

2. are / where / going / you

(1×2 = 2புள்ளிகள்)

10) பின்வரும் விடுகதைகளுக்கான விடையை எழுதுக.

தலைக்குள் கண்கள் வைத்திருப்பவன் இவன் மட்டும் தான். இவன் யார்?

(1×1 = 1புள்ளிகள்)

11) பொருத்தமான நிறுத்தற் குறிகளை இடுக.

அவர்கள் சென்ற பேருந்து விபத்துக்குள்ளாகி விட்டது (1×1 = 1புள்ளிகள்)

12) பின்வரும் வாக்கியத்தை ஒழுங்குபடுத்தி கருத்துள்ள வாக்கியமாக எழுதுக.

1. கண்ட / மகள் / நிலவு / கதிரவனைக் / கொண்டாள் / ஒளிந்து / நாணத்துடன் / கடமையை / தன் / முடித்து

.....
.....

(1×1 = 1புள்ளிகள்)

13) பின்வரும் சொற்களைப் பொருத்தமான இடைவெளியில் வைத்து எழுதுக.

1. படர்க்கைப் பன்மை உயர்திணைப் பெயர்ச்சொல்



2. முன்னிலைப் பன்மை உயர்திணை வினைச்சொல்

3. அஃறிணை ஒருமைப் பெயர்ச்சொல்

(நீங்கள் , அவர்கள் , வந்தோம் , புறா , வருகின்றீர்கள் , வந்தன)

(1×3 = 3புள்ளிகள்)

14) பின்வரும் படங்கள் குறிக்கும் ஆங்கிலப் பெயரை ஆங்கில எழுத்துக்களில் எழுதுக.



.....

.....

(1×2 = 2புள்ளிகள்)

15) மாணவர்களாகிய நாம் சுயசுத்தம் பேண வேண்டியது மிகக் கட்டாயமாகும். சுயசுத்தம் பேணுவதால் தொற்று நோய்களிலிருந்தும் எம்மைப் பாதுகாத்துக் கொள்ளலாம். “சுயசுத்தம் பேணுவோம்” எனும் தலைப்பில் மூன்று வாக்கியங்கள் எழுதுக. (ஒவ்வொரு வாக்கியத்திலும் குறைந்தது ஆறு சொற்களேனும் இருத்தல் வேண்டும். பொருத்தமான எழுவாய் பயனிலைகளுடன் எழுத்துக்கூட்டலும் சரியாக இருத்தல் வேண்டும்.

1.

.....

2.

.....

3.

.....

(2×3 = 6புள்ளிகள்)

16) பின்வரும் சிங்களச் சொற்களின் தமிழ் கருத்தை தமிழ் எழுத்துக்களில் தருக.

1. குருவரயா

2. சீயா

(1×2 = 2புள்ளிகள்)

17) பின்வரும் வாக்கியங்கள் குறிக்கும் சிங்களக் கருத்தை தமிழ் எழுத்துக்களில் தருக.

1. பாற்சோறு


2. தேநீர் குடியுங்கள்

3. உங்கள் வயது எத்தனை?.....

(1×3 = 3புள்ளிகள்)

பின்வரும் வினாக்களுக்கு விடை தருக.

1. மீன்களின் எண்ணிக்கையின் இருமடங்கை உரோமன் எண்ணில் தருக.



2. 36015 இவ்வெண்ணின் எண் பெயரை எழுதுக.

.....

3. 4500 மில்லிலீற்றர் நீரானது ஒவ்வொன்றும் 375 மில்லிலீற்றர் கொள்ளளவுடைய 9 குவளைகளில் ஊற்றப்பட்டது எனின் எஞ்சிய நீரின் அளவு யாது?

4. பேருந்து ஒன்றில் 78 பேர் இருந்தனர். அடுத்த தரிப்பிடத்தில் அரைவாசிப் பேர் இறங்க 17 பேர் ஏறினர் எனின் தற்போது பேருந்தில் உள்ளோர் எத்தனை பேர்?

.....

5. 1Kg மிளகாயின் விலை ரூ.600 எனின் 250g மிளகாயின் விலை யாது?

6. விமானம் ஒன்று பி.ப 9.30 மணிக்குப் புறப்பட்டு அடுத்த நாள் அதிகாலை 4.15க்கு தரையிறங்கியது எனின் விமானம் பயணத்துக்காக எடுத்துக் கொண்ட காலம் யாது?

.....

7. கூட்டுக. 2Km 50m + 6Km 75m.....

8. கமல் தெற்காக 100m சென்று அங்கிருந்து வலது பக்கம் திரும்பி 100m சென்று அங்கிருந்து தெற்காக 100m சென்று வீட்டை அடைந்தான். கமலின் வீடு அவன் பயணத்தை ஆரம்பித்த இடத்துக்கு எத்திசையில் உள்ளது?

.....

9. ஜந்து நண்பர்கள் ஆளுக்கு ரூபாய் 115.00 வீதம் செலுத்தி விளையாட்டுப் பொருட்கள் சிலவற்றை ரூபாய் 500.00ற்கு வாங்கினர். எஞ்சிய பணத்தை தம்மிடையே சமமாகப் பங்கிட்டுக் கொண்டனர்.

I. விளையாட்டுப் பொருட்களை வாங்கிய பின் எஞ்சிய பணம் எவ்வளவு?

II. மீதிப் பணத்தில் ஒருவருக்கு கிடைத்த பணம் எவ்வளவு?

10. பயணத்தை ஆரம்பிக்கும் போது ஒரு வாகனத்தின் மானி இலக்கம் பின்வருமாறு பதியப்பட்டிருந்தது.

Km

0	9	9	9	9
---	---	---	---	---


வாகனம் மேலும் 10Km தூரம் சென்றபின் அதன் மானி காட்டும் இலக்கங்களை வெற்றுக் கூடுகளில் எழுதுக.

Km

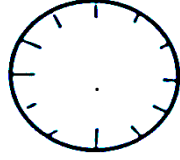
--	--	--	--	--

11.

- 1) உருவில் 0.5 பகுதியை நிழற்றுக்க.
- 2) எஞ்சிய பகுதியை பின்னாகத் தருக.



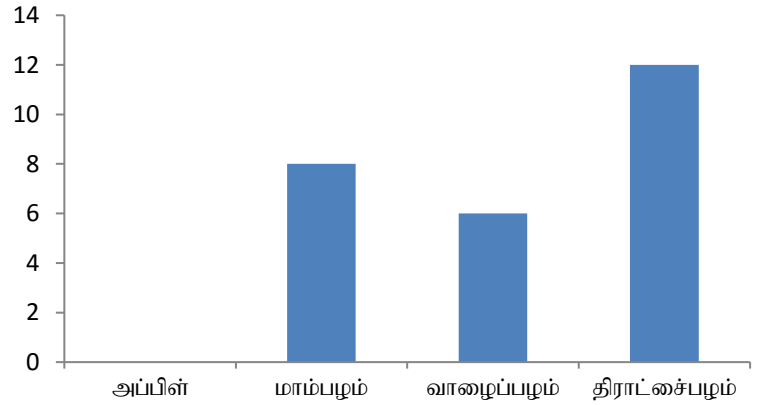
12. 04.30 எனும் நேரத்தை கடிக்கார முகத்தில் குறித்துக் காட்டுக.



13.

- I. வரைபில் உள்ள தகவல்களுக்கேற்ப அட்டவணையில் இருக்கும் வெற்றிடங்களை நிரப்புக.
- II. அட்டவணையில் உள்ள தகவல்களுக்கேற்ப வரைபை பூரணப்படுத்துக.

பழுவகை	எண்ணிக்கை
ஆப்பிள்	11
மாம்பழம்
வாழைப்பழம்	6
திராட்சைப்பழம்	12



14. ரூபாய் 320.00 பெறுமதியான பொருட்களை வாங்கிய அனிதா ரூபாய் 500 ஜக்கடைக்காரரிடம் கொடுத்தாள். கடைக்காரர் மேலதிகமாக ரூபாய் 20.00 ஜப்பெற்றுக்கொண்டார். அனிதாவுக்கு கிடைக்க வேண்டிய மீதிப்பணம் எவ்வளவு?

15.

- I. மூன்று சோடி செவ்வகங்களைக் கொண்டு ஆக்கக்கூடிய திண்ம உரு எது?
.....
- II. அதன் முகங்களினதும் விளிம்புகளினதும் கூட்டுத்தொகை யாது?

(2×15 = 30புள்ளிகள்)

பின்வரும் வினாக்களுக்கு பொருத்தமான விடையின் கீழ் கோடிடுக.

1. இலங்கையை முதன்முதலில் ஆட்சி செய்த வெளிநாட்டவர்.
1) போர்த்துக்கேயர் 2) ஒல்லாந்தர் 3)ஆங்கிலேயர்
2. நான் பெற்ற உள அமைதியை எனது நண்பர்களுக்கும் பகிர்கிறேன். இது தியானச் செயற்பாட்டின் எப்படிநிலையாகும்?
1) மலர்வு 2) திடசித்தம் 3)பிரார்த்தனை
3. உலகிலுள்ள நீரில் பனிக்கட்டியாகவுள்ள நீரின் சதவீதம்?
1) 2% 2) 1% 3) 97%
4. தேசப்படத்தில் பிரதான வீதி, அதிவேகப்பாதை என்பவற்றைக் குறித்துக் காட்டப் பயன்படுத்தப்படும் நிறங்கள் முறையே
1) ஊதா,சிவப்பு 2) சிவப்பு,மஞ்சள் 3) சிவப்பு,ஊதா
5. மின்காந்தம் காணப்படும் உபகரணம் அல்லாதது
1) மின்மணி 2) வானொலி 3) மின்பாரந்தூக்கி
6. வானவில் ஒன்றுடன் தொடர்பான கூற்றுக்களில் பிழையானது?
1) வானவில்லில் ஏழு நிறங்கள் உண்டு.
2) மழை பெய்த பின்னர் வானவில் தோன்றும்.
3) காலவேளை கிழக்கு வானில் வானவில் தென்படும்.
7. பின்வருவனவற்றுள் இலங்கையிலுள்ள விமான நிலையங்களுக்குள் அடங்காதது
1) கோட்டை 2) இரத்தமலானை 3) கட்டுநாயக்கா
8. வித்துக்களை நீக்கிவிட்டு உணவுக்கு பயன்படுத்தும் காய் எது?
1) பாகல் 2) வெண்டி 3) பயற்றை
9. பயிர்களின் வேர்களைச் சேதமாக்கும் பிராணி
1) மயிர்க்கொட்டி 2) கறையான் 3) மண்புழு
10. பாரத தேசத்தில் பிறந்திருப்பாரேயானால் ஒரு தெய்வம் போன்று போற்றப்பட்டிருப்பார் எனப் புகழப்பட்டவர்
1) கலாநிதி.ஆனந்தகுமாரசுவாமி 2) C.W.W. கன்னங்கரா 3) ஆதர்.சி.கிளாக்
11. சூரிய நமஸ்காரப் படிமுறைகளில் ஒரே மாதிரியான செயற்பாடு செய்யப்படும் படிமுறைகள் எவை?
1) 2 , 10 2) 3 , 10 3) 1 , 12
12. மிளகாய்ப் பூவின் நிறம்
1) மஞ்சள் 2) சிவப்பு 3) வெள்ளை
13. நடுகைக்கு உகந்த வித்தின் பண்புகளில் அடங்காதது
1) நன்கு முதிர்ச்சி அடைந்தவை
2) பூச்சித்தாக்கம் அற்றவை
3) உள்ளீடு காணப்படாமை
14. மின்னைக் கடத்தாத பொருள்
1) உலோகக் கடதாசிக் கவ்வி
2) புதிய நாணயக் குற்றி
3) காய்ந்த மரத்துண்டு
15. தேசபிதா எனப் போற்றப்படுபவர்?
1) கொங்காலே கொட பண்டா 2) டி.எஸ். சேனநாயக்கா 3) ஆதர்.சி கிளாக்

16. இலங்கைக்கு உரித்தான பிராணிகளின் தொகுதிகளில் அடங்காதது எது?
 1) மரநாய் , சபன்கோழி , மந்திக்குரங்கு
 2) கலவத்தன் , கொம்பு ஓணான் , சபன்கோழி
 3) காட்டுக்கோழி , கொம்பு ஓணான் , மரநாய்
17. பின்வருவனவற்றில் உற்பத்தித் திகதிக்கும் காலாவதித் திகதிக்கும் இடையில் நீண்ட காலம் இருக்கக்கூடியது?
 1) யோக்கட் 2) மருந்துப்பாணி 3) இறப்பர்ரயர்
18. நல்ல முட்டையை கடல் நீரில் இட்டால் யாது நிகழும்?
 1) தாழும் 2) மிதக்கும் 3) மிதந்து தாழும்
19. சாரதி ஒருவரிடம் கட்டாயமாக இருக்க வேண்டியது?
 1) தேசிய அடையாள அட்டை 2) சாரதி அனுமதிப்பத்திரம் 3) தலைக்கவசம்
20. வடக்குத் திசையை அறிய உதவும் உடுத்தொகுதி?
 1) சிறுகரடி 2) பெருங்கரடி 3) வேட்டைக்காரன்
21. பூண்டு வகையை சேராத தாவரம்
 1) பால் அறுகு 2) குப்பைமேனி 3) வல்லாரை
22. நடந்து செல்லும் போது முதலில் நிலத்தில் படவேண்டிய காலின் பாகம்
 1) கட்டைவிரல் 2) குதிக்கால் 3) பெருவிரல்
23. புத்தரின் தந்ததாது வைக்கப்பட்டுள்ள இடம்
 1) குருநாகல் 2) கண்டி 3) சிலாபம்
24. இருளை அதிகம் நாடும் பூச்சி
 1) கும்பிடுபூச்சி 2) வெட்டுக்கிளி 3) கரப்பான்
25. வொலிபோல் விளையாட்டில் ஒரு குழுவில் இருக்க வேண்டியவர்கள்
 1) 12 பேர் 2) 16 பேர் 3) 6 பேர்
26. காலாவதியாகிய தகரத்தில் அடைக்கப்பட்ட மீன்களை உண்பதால் ஏற்படக்கூடிய விளைவு எது?
 1) உதடு வீங்குதல் 2) கழிச்சல் நோய் 3) வயிற்றுவலி ஏற்படும்
27. காசோலை ஒன்றை மாற்றிப் பணம் பெறச் செல்ல வேண்டிய இடம்
 1) பாடசாலை 2) பிரதேச சபை 3) வங்கி
28. சிறுவர்களுக்கெதிரான துஸ்பிரயோகம் தொடர்பாக அறிவிக்க வேண்டிய தொலைபேசி இலக்கம்?
 1) 117 2) 1939 3) 1929
29. யால பிரதேசக் கடலில் கலக்கும் நதி எது?
 1) மாணிக்க கங்கை 2) நிலவள கங்கை 3) ஜின்கங்கை
30. உணவு சமைக்கும் போது ஒருவர் அணிய வேண்டிய உடை யாது?
 1) காலுறை 2) ஏப்ரன் 3) கையுறை

(1×30 = 30புள்ளிகள்)